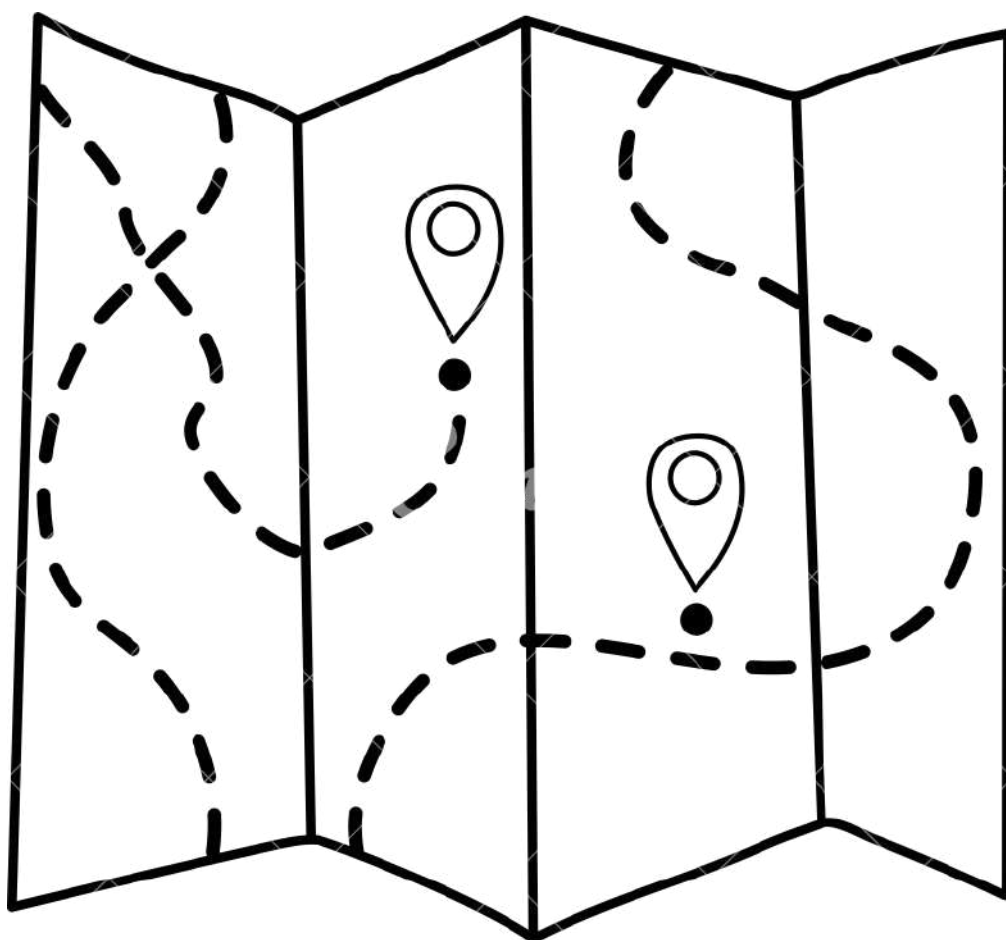


PARCOURS EUROPE LIVRET LUDIQUE

Parcours disponible sur l'application mobile "Hérouville Saint-Clair"

A partir de 10 ans - durée 2 heures



INTRO

Saviez-vous que de nombreux lieux à Hérouville Saint-Clair ont été cofinancés par des aides européennes ?

Le service des relations internationales vous propose un parcours interactif dans la ville via l'application mobile "Hérouville Saint-Clair". Venez découvrir les activités de ces lieux tout en apprenant davantage sur les diverses actions de l'Union Européenne !

Si vous souhaitez le faire avec des enfants, ce livret vous accompagnera à travers des jeux, des énigmes, des questions à chaque étape du parcours.

Comment réaliser le parcours Europe accompagné du livret ?

- Téléchargez l'application "Hérouville Saint-Clair" et cliquez sur l'onglet "Parcours" puis sur "Parcours Europe"
- Parcourez les différentes étapes et réalisez à chaque point d'intérêt le jeu correspondant.

Bon voyage !



1
→

Relie les groupes de pays à leur année d'entrée dans l'UE.

Suède, Finlande, Autriche

1957

Bulgarie, Roumanie

1973

Portugal, Espagne

1981

Croatie

1986

Irlande, Danemark, Royaume-Unis*

1995

France, Belgique, Pays-Bas,

Luxembourg, Allemagne, Italie

2004

Grèce

2007

Rep. Tchèque, Pologne, Lettonie,

2013

Estonie, Lituanie, Slovénie, Hongrie, Slovaquie

Laquelle de ces villes n'est pas jumelée à Hérouville Saint-Clair ?

☐

Garbsen , Allemagne

☐

Wrzesnia, Pologne

☐

Ahfir, Maroc

2
←

Laquelle parmi ces langues
n'est pas une langue
officielle de l'Union
Européenne ?

finnois - japonais - bulgare
danois - portugais

3



Trouve les 5 mots cachés.

soutien

aide


fonds

subvention

financement

R	D	U	T	H	U	S	J	G	V	S
M	J	L	K	P	M	D	G	T	O	U
M	S	Q	B	D	C	T	G	Z	P	B
N	O	J	Z	F	N	K	M	S	A	V
G	U	F	Q	Y	Q	O	K	T	I	E
X	T	O	T	L	X	P	K	S	T	N
F	I	N	A	N	C	E	M	E	N	T
T	E	D	N	Z	V	H	G	W	A	I
O	N	S	B	U	X	P	F	O	I	O
G	M	Q	L	M	U	X	X	Y	D	N
P	P	H	U	Z	V	E	G	E	E	U

4



Pendant quel voyage pourrait-on avoir un contrôle ?

A. Lisbonne, Portugal -> Milan, Italie

B. Riga, Lettonie ->
Londres, Royaume-Uni


C. Vienne, Autriche -> Oslo, Norvège



5



6



VRAI ou FAUX

3 000 communes ont bénéficié du
financement du programme Wifi4UE.



Devine les mots liés aux opportunités de mobilité
internationale offertes par l'UE.



tu

2




7



Quelle carte peux-tu obtenir à l'occasion d'un voyage pour avoir accès aux soins au sein de l'UE ?



8



9

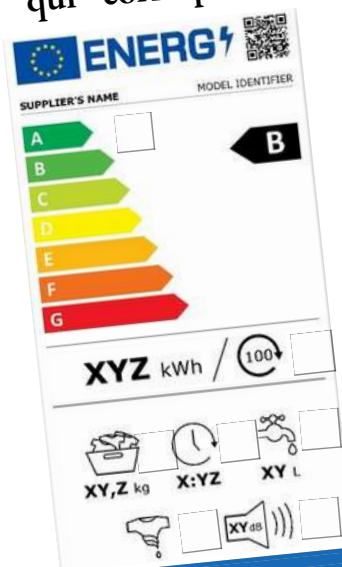
Il n'est pas possible de ____ sur la plateforme eTwinning.

- a.) Partager des présentations
- b.) Envoyer des messages, photos, vidéos
- c.) Téléphoner
- d.) Participer à des visioconférences



Ecris le numéro de l'information qui correspond à l'étiquette d'un lave-linge.

- 1. Classe énergétique
- 2. Consommation d'eau pour par cycle
- 3. Niveau sonore pendant l'essorage
- 4. Consommation d'électricité pour 100 lavages
- 5. Durée du programme économique
- 6. Capacité de la machine
- 7. Niveau d'efficacité d'essorage



10



11
→

Relie le sport au pays où il est le plus pratiqué.




A_l_m_g_e



I_a_i



Sl_v_n_e



_r_a_d_

Mets dans l'ordre chronologique les différentes étapes de la chaîne de production alimentaire.

☐

transformation


☐

consommation

☐

distribution et vente aux consommateurs


☐

production

☐

conditionnement



12





Contacts

Service Relations Internationales

02.31.45.34.88

international@herouville.net

www.herouville.net



GATE-HSC



gate_hsc_